



Διάστημα

Βάλε ✓ στη σωστή απάντηση (μία κάθε φορά).



Για να κάνει η Γη μια πλήρη περιστροφή γύρω από τον εαυτό της, χρειάζεται:

- μια μέρα
- μια εβδομάδα
- έναν μήνα

Για να κάνει η Γη μια πλήρη περιστροφή γύρω από τον Ήλιο, χρειάζεται:

- έναν μήνα
- έναν χρόνο
- 10 μέρες

Ο πιο ζεστός πλανήτης είναι:

- ο Άρης
- ο Ερμής
- η Αφροδίτη

Ο πιο μεγάλος πλανήτης είναι:

- ο Δίας
- ο Πλούτωνας
- ο Ουρανός





Βάλε ✓ στο Σ (σωστό) ή στο Λ (λάθος).

Το σύμπαν περιέχει δισεκατομμύρια άστρα.

Σ

Λ

Αν κοιτάξουμε τη νύχτα τον ουρανό, μπορούμε να δούμε όλο το σύμπαν.

Στη Σελήνη δεν υπάρχει αέρας.

Η έκλειψη του Ήλιου είναι ένα φυσικό φαινόμενο που προκαλεί μεγάλες καταστροφές.

Έχουν πάει άνθρωποι στον πλανήτη Άρη.

Με τα τηλεσκόπια μπορούμε να δούμε αστέρια που βρίσκονται πολύ μακριά από τη Γη.

Γνωρίζεις ποιοι είναι οι πλανήτες του ηλιακού μας συστήματος;
Προσπάθησε να τους γράψεις.



Διάβασε προσεκτικά καθεμιά από τις παρακάτω προτάσεις.
Στη συνέχεια γράψε την αντίθετή της.

Ο Δίας είναι μεγαλύτερος από τον Κρόνο.

Ο Κρόνος είναι μικρότερος από τον Δία.

Η Γη είναι μεγαλύτερη από τον Ερμή.

Ο Ουρανός είναι μικρότερος από τον Κρόνο.

Ο Πλούτωνας είναι μικρότερος από τη Γη.

Βρες ποιες προτάσεις ανήκουν στη Γη και ποιες στη Σελήνη και χρωμάτισέ τις με διαφορετικό χρώμα.


Δεν υπάρχει αέρας.	Έχει θάλασσες.
Φαίνεται τη νύχτα στον ουρανό.	Τη μέρα κάνει πολλή ζέστη και τη νύχτα πολλή παγωνιά.
Ζουν άνθρωποι.	Δεν υπάρχει νερό.
Έχει πολλούς κρατήρες.	Δεν υπάρχει ζωή.
Υπάρχει οξυγόνο στην ατμόσφαιρά της.	Υπάρχουν ζώα και φυτά.

Φαντάσου ότι είσαι αστροναύτης και βρίσκεσαι στο διάστημα. Γράψε με λίγα λόγια πώς σου φαίνεται η Γη από ψηλά.





Ζωγράφισε έναν πύραυλο.



Ανακαλύψεις – Εφευρέσεις

Αντιστοιχίσε ό,τι ταιριάζει.

ατμομηχανή

αεροπλάνο

τροχός

πλοίο

χαρτί

λάμπα

ρολόι

θερμόμετρο

αλεξικέραυνο

κίνηση

σιδηρόδρομος

ουρανός

ηλεκτρισμός


κεραυνός

γράψιμο


θάλασσα

ώρα

θερμοκρασία



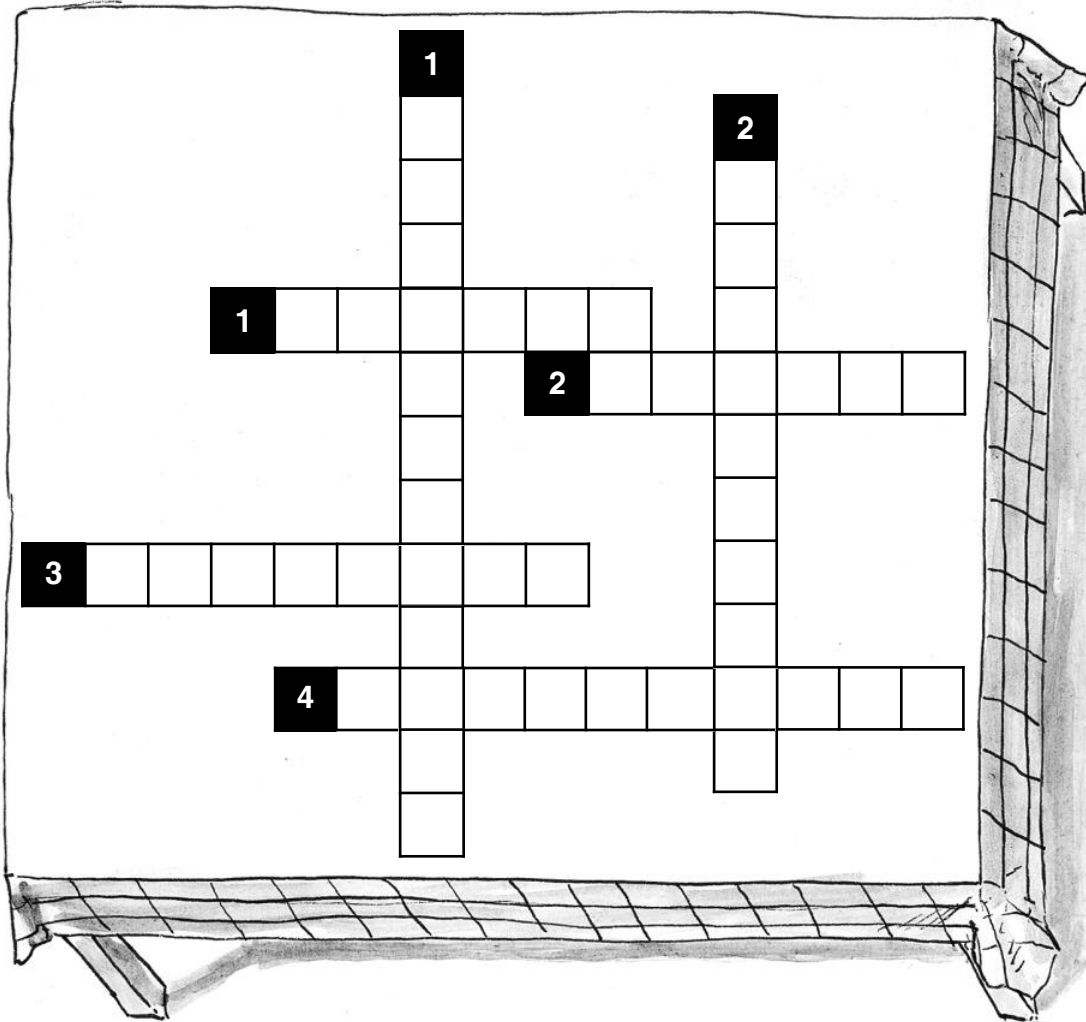
Να βρεις τα επίθετα και να τα γράψεις και στα τρία γένη.



Μέχρι το 2050, οι επιστήμονες λένε ότι θα έχουν νικήσει τις περισσότερες ασθένειες, θα έχουν στείλει διαστημόπλοιο με ανθρώπους στον πλανήτη Άρη και θα έχουν εφεύρει μηχανές που θα κάνουν τη ζωή του ανθρώπου πιο άνετη και εύκολη. Επίσης, μέχρι τότε θα έχουν λύσει σοβαρά προβλήματα, όπως το ενεργειακό πρόβλημα (γιατί το πετρέλαιο σύντομα θα τελειώσει) και το πρόβλημα της ρύπανσης του περιβάλλοντος.

Ασθενειακό	Εξοπλισμο	Οργανισμό
περισσότερος	περισσότερη	περισσότερο

Προσπάθησε να λύσεις το σταυρόλεξο.



ΟΡΙΖΟΝΤΙΑ

1. Με τη συσκευή αυτή οι ναυτικοί βρίσκουν τη σωστή πορεία.
2. Έτσι λέγεται αλλιώς η ρόδα.
3. Αυτή δίνει ρεύμα στο αυτοκίνητο.
4. Όχημα που έχει μηχανή και κινείται.

ΚΑΘΕΤΑ

1. Μας προστατεύει από τους κεραυνούς.
2. Μηχανή που κινείται με τη βοήθεια του ατμού.

Παρακάτω σου δίνονται κάποιες μεγάλες εφευρέσεις με ανακατεμένες τις συλλαβές.
Μπορείς να τις βρεις;

ρ τ ί χ α

ε π λ ά ρ ο ν ο α

υ γ ι π ο λ ο σ τ ή ς


λ ε τ η ρ α σ η ό

ρ α φ ω ν ο δ ι ό

μ π ό τ ρ ο

η κ τ ρ ι λ ε σ μ ό ς

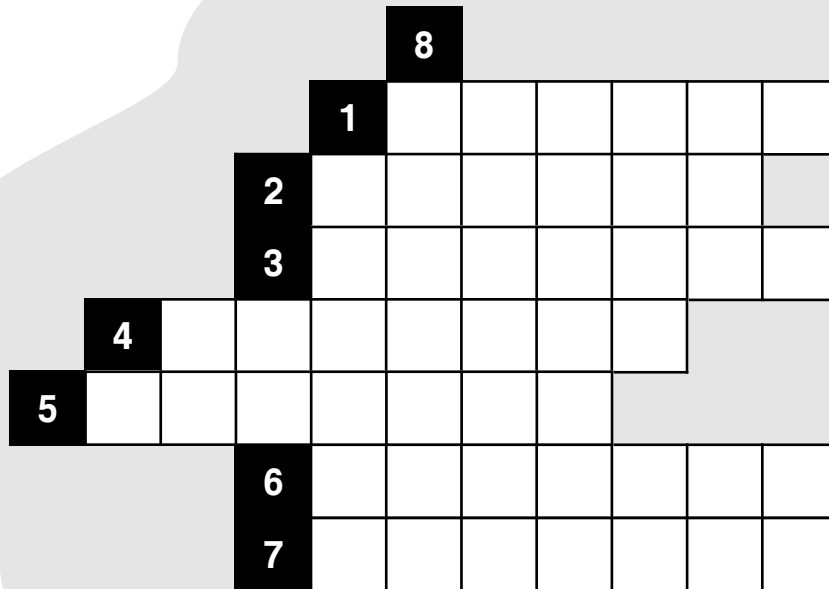
τ η φ ω ν ο λ έ



Προσπάθησε να λύσεις την ακροστιχίδα, βάζοντας τα ρήματα στον παρακείμενο.



1. έχω _____ (φτάνω)
2. έχω _____ (ντύνω)
3. έχω _____ (νικάω)
4. έχω _____ (χαλάω)
5. έχω _____ (ανοίγω)
6. έχω _____ (λερώνω)
7. έχω _____ (τινάζω)
8. έχω _____ (φτιάχνω)



Ταξίδια στον κόσμο

Αντιστοίχισε κάθε χώρα με την πρωτεύουσά της.



Ιταλία

Ισπανία

Γερμανία

Μεγάλη Βρετανία

Πορτογαλία

Αυστρία

Γαλλία

Βερολίνο

Λονδίνο

Ρώμη

Μαδρίτη

Παρίσι

Λισαβόνα

Βιέννη

Γράψε σε μια μικρή παράγραφο ποια χώρα θα ήθελες να επισκεφτείς και γιατί.



Γράψε από ποια χώρα ή ήπειρο κατάγεται ο:



Άγγλος	Αγγλία
Γάλλος	
Γερμανός	
Αμερικανός	
Αφρικανός	
Κινέζος	
Ισπανός	
Ιάπωνας	
Ευρωπαίος	
Ασιάτης	



Διάβασε προσεκτικά τις παρακάτω προτάσεις και συμπλήρωσε με τη σωστή λέξη:


(κόκκινη, μαύρη, λευκή, κίτρινη).

Οι Ευρωπαίοι ανήκουν στη _____ φυλή.

Οι Κινέζοι ανήκουν στην _____ φυλή.

Οι Ινδιάνοι ανήκουν στην _____ φυλή.

Οι Αφρικανοί ανήκουν στη _____ φυλή.



Βρες στον παγκόσμιο χάρτη τα μέρη όπου ζουν αυτοί οι άνθρωποι.



Ένωσε κάθε χώρα με την ήπειρο όπου ανήκει.

ΕΥΡΩΠΗ



Γαλλία

Νιγηρία

Τουρκία

ΑΣΙΑ



Ιαπωνία

Μεξικό

Βραζιλία

Αίγυπτος

ΑΜΕΡΙΚΗ



Καναδάς

Ιταλία

Αιθιοπία

ΑΦΡΙΚΗ




Ισπανία

Προσπάθησε να γράψεις τις παρακάτω λέξεις στον πληθυντικό αριθμό.



ΕΝΙΚΟΣ ΑΡΙΘΜΟΣ	ΠΛΗΘΥΝΤΙΚΟΣ ΑΡΙΘΜΟΣ
Ολλανδός	Ολλανδοί
Ιρλανδός	
Ασιάτης	
Ιάπωνας	
Κορεάτης	
Αιγύπτιος	
Καναδός	
Αυστραλός	
Ευρωπαίος	
Ινδός	



*Βρες στον παγκόσμιο χάρτη τις ηπείρους και τους ωκεανούς.
Σχεδίασε στο παρακάτω πλαίσιο τη χώρα που θα ήθελες να επισκεφτείς.*

